

1

- 問1 (1) (2)
- 問2 (1) (2) ③ ⑤
- 問3 (1) (2) (3)
- 問4 (1) (2) (3)
- 問5 A B 問6 (1) (2)
- 問7 (1) (2)
- 問8 ④ ⑤ ⑥

2

- (1) (2) (3) (4) (5) (6)
- (7) (8) (9) (10) (11) (12)

3

- 問1 問2 問3
- 問4 問5 m 問6
- 問7 m 問8 問2・問3：各順不同・完答

配点：1 各3点 2・3 各2点 ※下線部：漢字指定










【解説】

- 1 ※①～⑦の都道府県の名前と位置、それぞれの都道府県庁所在地の名前は各自地図帳で確認しておきましょう。
- 問1 (1) イ：北海道にある「知床」は、世界自然遺産です。 ア：新函館北斗駅 ウ：釧路湿原など エ：知床半島
- 問2 (1) ア：空っ風＝冬の北西季節風が山をこえて太平洋側に吹き下ろす低温で乾燥した風
イ：フェーン現象＝風が山をこえて吹き下りる際に、高温乾燥になる現象
エ：ハリケーン＝アメリカ大陸をおそう熱帯低気圧 ※日本をおそう熱帯低気圧は「台風」
- 問4 (2) ウ：石川県北部には、能登半島があります。電照菊の栽培がさかんな渥美半島は、愛知県の南部にあります。
(3) A：夏に降水量が多い→太平洋側 B：1月の平均気温が0℃未満・全体的に降水量が少ない→中央高地の気候
C：冬に降水量が多い(＝雪がよく降る)→日本海側
- 問6 (1) 鳥取県では「二十世紀なし」、岡山県では「マスカット」の生産がさかんです。
(2) ア：「石見銀山」をヒントに解きましょう。 イ：香川県 ウ：岡山県東部 エ：新潟県の島
- 問7 (1) 岡山県倉敷市児島地区と香川県坂出市を結んでいます。他の2つのルートも地図帳で確認しておきましょう。
(2) エ：高知県では、土佐和紙の生産がさかんです。美濃和紙は、岐阜県の伝統的工芸品です。
- 問8 現在九州新幹線が通っている県は、福岡県・佐賀県・熊本県・鹿児島県です。よってウ・オが熊本県・鹿児島県のいずれか、ア・イ・エが沖縄県・長崎県・宮崎県のいずれかとなります。あとは、各県の特産品、人口をヒントにそれぞれの県を判別していきましょう。 ア：宮崎県 イ：長崎県 ウ：熊本県 エ：沖縄県 オ：鹿児島県

2

- ※選択肢に出てきた川や海などの地形や世界の国々の名前と位置は、各自地図帳で確認しておきましょう。
- (5) ア：暖流で日本海を流れる イ：暖流で太平洋を流れる ウ：寒流で太平洋を流れる
- (7) ア：河口付近に細かい土砂が積もってできた地形 イ：山の斜面を階段状に切り開いた田
ウ：火山の噴火後、山頂にできたくぼ地 エ：川が山から平地に出るところに土砂が積もってできた地形
- (8) イ：日本の東端 ウ：日本の西端 エ：日本の北端

3

- 問2 ア：X イ： ウ： エ： オ： カ： キ： ク： ケ： コ：
- 問3 ア：地形図中の最高地点は「白髪山」山頂の「293.7m」です。
イ：地形図中の北側の山には、針葉樹林(△)も広葉樹林(Q)も見られます。
エ：「小中村」や「菅谷古墳」の周辺には、田(田)や畑(畑)が見られますが、荒地(荒地)も多く見られます。
- 問4 JRの「さかいみなと駅」は地形図中央に見られる市街地(斜線部分)の西側に位置しています。
- 問5 地形図の縮尺は25000分の1なので、長さ2cmの実際の距離は2cm×25000=50000cm=500mとなります。
- 問8 等高線が標高の低い方から高い方へ入り込んでいるのが「谷」、高い方から低い方へ突き出ているのが「尾根」です。