

1

(1)	1380	(2)	^㉞ 14.0 ^㉟ 0.1	(3)	$2\frac{1}{6}$
-----	------	-----	--------------------------------------	-----	----------------

(4)	76	(5)	1	(6)	180
-----	----	-----	---	-----	-----

(7)	4800	(8)	1.37 (km)	(9)	1840 (dL)
-----	------	-----	-----------	-----	-----------

(10)	^㉞ 2 ^㉟ 40 ^㊱ 11 (時間) (分) (秒)	(2)(10); 各完答
------	--------------------------------------------------------------------	--------------

2

(1)	12	(2)	51	(3)	48
-----	----	-----	----	-----	----

3

(1)	16 個	(2)	100 個	(3)	13 個
-----	------	-----	-------	-----	------

4

(1)	100 cm^2	(2)	81 cm^2	(3)	441 cm^2
-----	-------------------	-----	------------------	-----	-------------------

5

(1)	28 枚	(2)	60 枚	(3)	49 枚
-----	------	-----	------	-----	------

6

(1)	60 通り	(2)	10 通り	(3)	30 通り
-----	-------	-----	-------	-----	-------

(配点) 各4点×25

①(5) $218 - \{171 \div (78 - 69) + 12\} \times 7$
 $= 218 - (171 \div 9 + 12) \times 7 = 218 - 31 \times 7 = 218 - 217 = 1$

(6) $\{(\square \div 5 - 26) \times 7 - 38\} \times 13 - 48 = 368$
 $\{(\square \div 5 - 26) \times 7 - 38\} \times 13 = 368 + 48 = 416$
 $(\square \div 5 - 26) \times 7 - 38 = 416 \div 13 = 32$
 $(\square \div 5 - 26) \times 7 = 32 + 38 = 70$
 $\square \div 5 - 26 = 70 \div 7 = 10$
 $\square \div 5 = 10 + 26 = 36$
 $\square = 36 \times 5 = 180$

(7) $43 \times 19 + 29 \times 43 + 48 \times 57 = 43 \times (19 + 29) + 48 \times 57$
 $= 43 \times 48 + 48 \times 57 = 48 \times (43 + 57) = 48 \times 100 = 4800$

(8) $306000 \text{cm} \div 18 + 0.004 \text{m} \times 300000$
 $= 17000 \text{cm} + 1200 \text{m} = 0.17 \text{km} + 1.2 \text{km} = 1.37 \text{km}$

(9) $12000 \text{cm}^3 \times 16 - 0.008 \text{m}^3$
 $= 192000 \text{cm}^3 - 80 \text{dL} = 1920 \text{dL} - 80 \text{dL} = 1840 \text{dL}$

(10) $7 \text{時間}34 \text{分}15 \text{秒} \div 5 + 1 \text{時間}9 \text{分}20 \text{秒}$
 $= 5 \text{時間}150 \text{分}255 \text{秒} \div 5 + 1 \text{時間}9 \text{分}20 \text{秒}$
 $= 1 \text{時間}30 \text{分}51 \text{秒} + 1 \text{時間}9 \text{分}20 \text{秒} = 2 \text{時間}40 \text{分}11 \text{秒}$

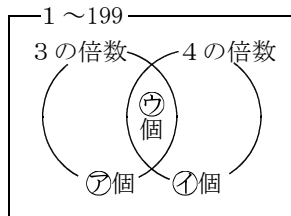
② □番目の組は(□, □+2, □+4)となる。

(1) 10番目の組は, (10, 12, 14)

(2) 15番目の組は, (15, 17, 19)
 よって, $15 + 17 + 19 = 51$

(3) 各組の真ん中にある整数は, その組の平均となる。
 真ん中 $\times 3 = 150$ より, 真ん中の整数は50。
 よって, 1番左の整数は, $50 - 2 = 48$

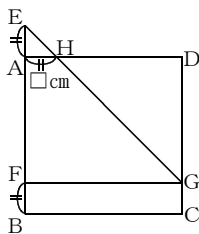
③(1) ㊦; $199 \div 3 = 66$ (個) 余り 1
 ㊧; $199 \div 4 = 49$ (個) 余り 3
 ㊨; $199 \div 12 = 16$ (個) 余り 7



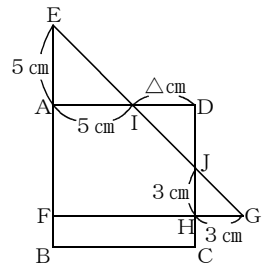
(2) (1)より, $199 - (66 + 49 - 16)$
 $= 100$ (個)

(3) 12の倍数のうち, 5の倍数を除く。
 $\text{LCM}(12, 5) = 60$ の倍数を除く。
 60の倍数; $199 \div 60 = 3$ (個) 余り 19
 よって, $16 - 3 = 13$ (個)

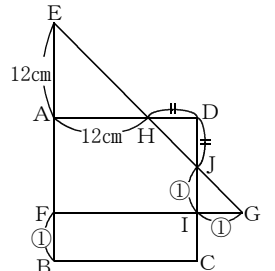
④(1) $EF = FG =$ 正方形の1辺より,
 $EA = FB$
 $\square \times \square \div 2 = 2$ より, $\square = 2$
 よって, $EA = FB = 2$ (cm)
 $FG = 20 \div 2 = 10$ (cm)
 正方形の面積は, $10 \times 10 = 100$ (cm^2)



(2) 長方形AFHDと直角二等辺三角形EFGは, 五角形AFHJIが共通なので, 差の 9cm^2 は三角形EAIと三角形JHGの面積の和と三角形JDIの面積の差になる。三角形JDIの面積は, $5 \times 5 \div 2 + 3 \times 3 \div 2 - 9 = 8$ (cm^2)
 $\triangle \times \triangle \div 2 = 8$ より, $\triangle = 4$ (cm)
 正方形の1辺は, $5 + 4 = 9$ (cm)
 よって, $9 \times 9 = 81$ (cm^2)



(3) わかる長さの条件をかきこむと右の図のようになる。
 $FB = IG = IJ = ①$ (cm)とすると,
 $CJ = ②$ (cm)
 $AH + HD = CJ + JD$, $HD = JD$
 より, $AH = CJ \rightarrow ② = 12$ (cm)
 $① = 6$ (cm)
 正方形の1辺の長さは, $126 \div 6 = 21$ (cm)
 よって, 正方形の面積は, $21 \times 21 = 441$ (cm^2)



⑤(1) 裏向きの50円玉と表向きの10円玉の枚数は同じなので,
 $1120 \div (50 - 10) = 28$ (枚)

(2) 表向きの50円玉と100円玉の合計枚数は, $100 - 28 = 72$ (枚)
 合計金額は, $5880 - 10 \times 28 = 5600$ (円)より, つるかめ算。
 $(100 \times 72 - 5600) \div (100 - 50) = 32$ (枚)
 裏向きの50円玉は28枚なので, $28 + 32 = 60$ (枚)

(3) 裏向きの10円玉と100円玉を全て表向きにしたときに増える金額は, $3320 - 50 \times 28 = 1920$ (円)
 $10 \times \square + 100 \times \triangle = 1920$ で, $\square + \triangle$ を最小にするには, \triangle をなるべく大きくすればよいので, $\square = 2$, $\triangle = 19$ となる。
 よって, 裏向きの硬貨は, $2 + 28 + 19 = 49$ (枚)

⑥(1) Aから順に線を引くと, AはD, E, F, G, Hの5通り,
 Bは残りの4通り, Cはさらに残りの3通り。
 よって, $5 \times 4 \times 3 = 60$ (通り)

(2) A-DとB-Eのとき, C-F, G, Hの3通り。
 A-DとB-Fのとき, C-G, Hの2通り。
 A-DとB-Gのとき, C-Hの1通り。
 A-EとB-Fのとき, C-G, Hの2通り。
 A-EとB-Gのとき, C-Hの1通り。
 A-FとB-Gのとき, C-Hの1通り。
 よって, $3 + 2 + 1 + 2 + 1 + 1 = 10$ (通り)

(3) Aからの線とCからの線が交われば, 真ん中のBからの線は必ず他の線と交わる。また, Aからの線とCからの線が交わらなければ, Bからの線が両方と交わることはできないので, 題意を満たすことはない。よって, Aからの線とCからの線の交わり方を調べればよい。
 A-EとC-D
 A-FとC-D, E
 A-GとC-D, E, F
 A-HとC-D, E, F, G } 10通り
 それぞれに対して, Bからの線は残りの3点どれと結んでもいいので,
 $10 \times 3 = 30$ (通り)