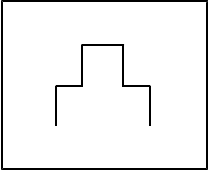


1

- 問1  問2  焼 問3  問4
- 問5  問6 (1)  (2)
- 問7 (1)  (2)  問8 (1)  (2)  問9
- 問10 (1)  (2) 
- 問11 (1)  (2)  問12
- 問11 (2) : 完答 問12 : 順不同・完答

2

- 問1  問2  問3  問4  問5

3

- 問1  問2  問3

配点 : 各4点 × 25問 = 100点

下線部 : ひらがな指定

1

問1 ア：税務署 ウ：裁判所 エ：図書館

問3 ア：淡路島 イ：佐渡島 エ：種子島

問4 イ・ウ：ピアノなどの楽器やオートバイは静岡県しずおかの浜松市はままつなどで生産がさかんです。

エ：たたみ表の原料である「い草」は、熊本県くまもとの八代平野やっしろで生産がさかんです。

問6 (1) 水持ちのよい三角州さんかくすは河口付近にできます。

問7 (1) 【2日目】の文章中に「日本最長」というキーワードがあります。設問だけでなく、最初の文章もよく読んでしっかり考えましょう。また、「千曲川→信濃川」「瀬田川→宇治川→淀川」のように上流と下流で名前が変わる場合はいっしょに覚えておきましょう。

(2) イ：利根川は流域面積最大で、2番目に長い川です。3番目に長いのは石狩川です。

ウ：三大暴れ川は、「坂東太郎＝利根川」「筑紫次郎＝筑後川」「四国三郎＝吉野川」です。

エ：三大急流は北から南の順に、最上川もがみ（山形県）、富士川くま（静岡県）、球磨川くまもと（熊本県）となっています。

問8 (1) ア：北海道が中心 イ：宮城県みやぎが中心 ウ：山形県が中心

(2) あ：濃尾平野を流れているのは、木曾川・長良川・揖斐川いびです。天竜川は長野県から静岡県へ流れる川です。

い：讃岐平野が位置する瀬戸内海沿岸は降水量が少なく、水不足を解消するためにため池がつくられています。

問9 ア：世界最大級の「カルデラ＝火山のくぼ地」を持つ熊本県の火山。

イ：浅間山のふもとにある群馬県の嬬恋村でキャベツの生産がさかん。

ウ：静岡県・山梨県にまたがる日本で最も高い山。

エ：鳥取県にある中国地方で最も高い山。

問10 (1) ア：松江城は島根県の県庁所在都市である松江市にあります。愛媛県の県庁所在都市は松山市です。

問11 (1) 北アルプス（飛騨山脈）・中央アルプス（木曾山脈）・南アルプス（赤石山脈）を合わせて「日本アルプス」といいます。

(2) 詳しくは地図帳で確認しましょう。 ア：近畿地方 イ：東北地方 ウ：九州地方

問12 長野県と接しているのは新潟県・群馬県・埼玉県・山梨県・静岡県・愛知県・岐阜県・富山県の8つで、その数は日本で最も多くなっています。




ア：山梨県 イ：群馬県 ウ：栃木県 エ：埼玉県 オ：富山県 カ：神奈川県

2

問3 ア  イ  ウ  エ  オ 

問4 「8 cm × 25000 = 200000 cm = 2000 m = 2 km」となります。

問5 ウ：等高線が標高の低い方へせり出しているのが、谷ではなく「尾根」になります。

ア・イ：広葉樹  針葉樹  荒地 

3

問1 8月6日に広島県、8月9日に長崎県に原子爆弾が投下されました。