

1

- 問1  問2   問3  問4
- 問5         問6  問7
- 問8  問9  問10

2

- 問1   問2   問3    問4
- 問1 : 順不同・完答
- 問5  問6  問7  問8
- 問9   問10

3

- 問1  問2  問3  問4  問5










配点 : 各4点 × 25問 = 100点

下線部 : 漢字・カタカナ・ひらがな指定

1

- 問1 ア：浅間山 (ふもとに<sup>つまごい</sup> 嬬恋村があります。) ウ：赤石岳<sup>あかいしだけ</sup> エ：御嶽山<sup>おんたけさん</sup>
- 問2 日本の屋根に位置する日本アルプスは北から<sup>じゅん</sup> 順に<sup>ひだ</sup> 飛驒山脈、木曾山脈、赤石山脈となっています。
- 問4 野辺山原では他の地域より出荷時期をおくらせる<sup>よくせいさいばい</sup> 抑制栽培が行われています。春野菜を真夏に栽培して夏から秋にかけて出荷します。
- 問5 保冷車<sup>ほれい</sup>を利用して<sup>れいぞう</sup> 冷蔵された<sup>じょうたい</sup> 状態のまま<sup>しょうひ</sup> 消費地まで運ばれます。
- 問6 ア：石狩平野<sup>いしかり</sup>の説明です。津軽平野ではりんごの栽培がさかんに行われています。  
イ：讚岐平野<sup>さぬき</sup>の説明です。越後平野は<sup>しつでん</sup> 湿田の<sup>かんでん</sup> 乾田化に<sup>せいこう</sup> 成功し、日本有数の稲作地帯になっています。  
ウ：ピーマンは<sup>みやざき</sup> 宮崎平野や高知平野で栽培がさかんに行われています。岡山平野では稲作に加えぶどうや桃も栽培がさかんに行われています。
- 問7 ア：伊勢<sup>いせ</sup>=三重県<sup>きゅうこくめい</sup>の旧国名<sup>きゅうこくめい</sup>の1つ イ：若狭<sup>わかさ</sup>=福井県<sup>ふくい</sup>の旧国名<sup>きゅうこくめい</sup>の1つ  
ウ：陸奥湾<sup>りくお</sup>=青森県<sup>あおもり</sup> エ：三河湾<sup>さんわ</sup>=愛知県<sup>あいち</sup>
- 問8 ア：熊本県<sup>くまもと</sup> イ：福岡県<sup>ふくおか</sup> ウ：大分県<sup>おおいた</sup> エ：鹿児島県<sup>かごしま</sup>
- 問9 ア：オランダ<sup>おランダ</sup> イ：ブラジル<sup>ぶらじる</sup> ウ：韓国<sup>かんこく</sup> エ：オーストラリア<sup>おーストラリア</sup>
- 問10 輪中地帯にみられる<sup>ひなん</sup> 避難小屋<sup>ひなん</sup>を水屋<sup>みづや</sup>ということも<sup>おぼ</sup> 覚えておきましょう。

2

- 問1 ア  イ  ウ  エ  オ   
カ  キ  ク  ケ 
- 問3 やませは夏に吹く北東の風で、<sup>いね</sup> 稲の生育が悪くなる<sup>れいがい</sup> 冷害を引き起こします。
- 問4 あ：台風は南からやってきますが、その進路はさまざまです。  
い：台風により海面が持ち上がる現象を「<sup>たかしお</sup> 高潮」といいます。津波は地震や<sup>かいてい</sup> 海底火山の<sup>ふんか</sup> 噴火が<sup>げんいん</sup> 原因で起きます。
- 問5 新潟県は、「山形県」、福島県、群馬県、長野県、富山県の5県と接しています。
- 問6 夏は南東から季節風が吹きます。
- 問7 ア：太平洋・寒流 イ：日本海・寒流 ウ：太平洋・暖流 エ：日本海・暖流
- 問10 ア：夏の降水量が多い=太平洋側 イ：降水量が少なく、冬も比較的温暖=瀬戸内  
ウ：冬の気温も高い=南西諸島 エ：降水量が少なく、1月の気温が0℃未満<sup>みまん</sup>=中央高地

3

- 問3 3月3日は桃の節句、5月5日は<sup>たんご</sup> 端午の節句ということも覚えておきましょう。
- 問4 ア：11月3日 イ：10月第2月曜日 ウ：9月第3月曜日 エ：11月23日
- 問5 ア：バンコクの方が降水量の合計は多いです。  
イ：サンフランシスコの降水量が最も多いのは12月です。  
ウ：4月と5月は30℃を上回っています。