

1

- 問1  問2  問3  問4  問5  市
- 問6     問7  問8  問9  問10
- 問6 : 完答
- 問11  問12 (1)  (2)  問13  問14  問15
- 問16  市 問17

2

- 問1 A  B  問2    問3  海流







3

- 問1  問2   問3

配点 : 各4点 × 25問 = 100点

下線部 : 漢字・ひらがな指定

1

- 問1 表の上の「単位」は「千人」と書いてあるので、一の位が千、十の位が万となります。
- 問2 ア：奈良県 ウ・エ：広島県
- 問3 イ：台風対策をしているのは、「台風銀座」とよばれる沖縄県の伝統的な家です。
- 問4 ア：愛知県南西部 イ：青森県北東部 ウ：鹿児島県南東部
- 問6 同じ土地で1年間に同じ作物を育てるのが「二期作」、ちがう作物を育てるのが「二毛作」です。また、野菜の早作りが「促成栽培」、野菜の遅作りが「抑制栽培」です。
- 問7 イ：大分県 ウ：徳島県 エ：岡山県
- 問8 ア：かき ウ：うめ
- 問9 四大島の面積比は「本州：北海道：九州：四国＝12：4：2：1」で、四国の面積が約2万km<sup>2</sup>であることから考えましょう。
- 問11 ア：岐阜県 イ：富山県 ウ：栃木県（長野県に接していません） エ：山梨県
- 問12 (1) 「4 cm × □ = 1 km = 100000 cm」 → 「□ = 100000 cm ÷ 4 cm = 25000」となります。
- (2) ア・イ・ウ：郵便局  寺院  神社  消防署  警察署  交番 
- 問13 ア：東京都 イ・エ：沖縄県
- 問14 日本にあるアメリカ軍基地のうち、沖縄県に約70%が集中しています。また、沖縄県の10%、沖縄島の20%を占めています。
- 問15 イ：広島県 ウ：長野県 エ：茨城県
- 問17 ア：約4倍ありますが、4倍以上はありません。  
イ：中部地方（愛知県・静岡県）も入っています。  
ウ：埼玉県は内陸県です。  
エ：東京都、神奈川県、埼玉県、千葉県の4つです。

2

- 問1 A：札幌市（北海道の気候） B：高松市（瀬戸内の気候）
- ア：瀬戸内の気候（年間の降水量が少なく、冬でも温暖）
- イ：太平洋側の気候（夏の降水量が多い）
- ウ：日本海側の気候（冬の降水量が多い）
- エ：南西諸島の気候（梅雨・台風の時期に降水量が多く、1月の平均気温が15℃以上）
- オ：中央高地の気候（年間の降水量が少なく、1月の平均気温が0℃未満）
- カ：北海道の気候（年間の降水量が少なく、約4ヶ月間平均気温が0℃未満）

3

- 問1 すでに開業した九州新幹線は、博多駅（福岡県）～鹿児島中央駅（鹿児島県）を結んでいます。通過するルートを地図帳で確認しておきましょう。
- 問3 「勤労感謝の日」が1年間にある16の祝日の最後となります。