

1

- 問1  市 問2  問3 (1)  (2)  (3)
- 問4  問5  問6  問7  問8  km 問9

2

- 問1 A  島 B  川 C  海峡
- 問2  問3  問4  問5  問6  問7  市
- 問8   問9










3

- 問1     問2   問3
- 問2: じゅんぶどう かんどう 順不同・完答

配点：各4点×25問＝100点

下線部：漢字・ひらがな指定

1

- 問1 松島は宮城県にある日本三景の1つです。
- 問2 ア：石川県 イ：京都府(天橋立) ウ：茨城県 エ：福井県
- 問3 (1) イ：北上盆地は岩手県にあります。北海道の中心部に位置しているのは「上川盆地」です。  
(3) ア：熊本県 イ：鹿児島県・宮崎県 ウ：福岡県
- 問5 D： は小・中学校の地図記号です。高等学校の地図記号は  です。
- 問6 縮尺が「1：25000」となっているので等高線は高さ10mずつひかれています。
- 問7 い：等高線が山の高い方に向かって入りこんでいるのが「谷」です。  
あ・う・え：すべて「尾根」になります。
- 問8 縮尺が「1：25000」となっているので「4 cm×25000=100000cm=1000m=1 km」となります。
- 問9 ア：山の方にあるのは果樹園  ではなく広葉樹  です。  
イ：神社  が4つに対して、寺院  は5つあります。  
ウ：荒地  はたくさんみられます。  
エ：市街地にあるのは工場  ではなく、発電所(変電所)  です。

2

- 問2 エ：新幹線は四国地方には通っていません。
- 問3 いの湖は宍道湖です。宍道湖ではシジミが水揚げされます。  
ア：焼津港(静岡県)など ウ：サロマ湖(北海道)・陸奥湾(青森県)など エ：広島湾など
- 問4 キャベツやはくさいは高原での抑制栽培(野菜の遅づくり)がさかんです。トマトは夏の野菜ですが熊本県が生産量日本1位です。
- 問5 ①は岡山県です。 ア：広島県 イ：山口県 ウ：島根県
- 問6 ②は広島県です。広島県と接しているのは岡山県、鳥取県、島根県、山口県の4つです。  
ア：鳥取県の説明ですが、人口は鳥取県がもっとも少なく、次いで島根県、高知県の順になっています。  
イ：岡山県にあるのは「後楽園」です。兼六園は石川県にあります。  
ウ：島根県の説明ですが、姫路城は兵庫県にあります。  
エ：山口県の説明です。
- 問7 ③は愛媛県です。
- 問8 ④は高知県です。徳島県(阿波)、香川県(讃岐)、高知県(土佐)、愛媛県(伊予)の旧国名はよく出るので覚えておきましょう。
- 問9 写真は愛媛県松山市にある「道後温泉」です。

3

- 問2 ア：11月3日 イ：10月第二月曜日 ウ：9月第三月曜日 エ：11月23日 オ：9月23日ごろ
- 問3 ア：ドイツの首都 イ：イギリスの首都 ウ：イタリアの首都