

1

問1 (1) (2) (3)

問2 (1) (2) (3)

問2 (3) : 完答

問3 (1) (2)

問4 (1) (2) (3)

問5 (1) (2) 問6

問5 (1) : 順不同・完答

問7 (1) (2) あ い う

問8 問9

2

問1 a b c

問1 b : 「普賢」も可

問1 d 問2 (1) (2)

問3 (1) (2) 問4 問5 (1) (2)

問3 (2) : 完答

問6 (1) (2) (3) (4)

3

問1 問2 問3 問4 m

問1 : 順不同・完答

問3 : 順不同







1

- 問1 (2) イ：下関市は山口県にある都市で、県庁所在都市の山口市よりも人口が多くなっています。
川崎市・倉敷市・今治市の人口は、各都道府県内では都道府県庁所在都市に次いで2番目に多くなっています。
- (3) Y：静岡県東部にある富士市や富士宮市の説明です。
- 問2 (2) B：茨城県や長野県が上位であることから高原野菜のはくさい
C：宮崎県が1位であることからきゅうり 残ったAがねぎ
- 問3 (1) 表中の「美濃（岐阜県の旧国名の1つ）」や「多治見（岐阜県で陶磁器工業がさかんな都市）」から連想しましょう。
- (2) 岐阜県が接しているのは、長野県・愛知県・三重県・滋賀県・福井県・石川県・富山県の7県です。
ア：新潟県 イ：石川県 ウ：長野県 エ：福井県
- 問4 (1) イ：香川県 ウ：山口県 エ：広島県
(3) この統計は「人口の少ない都道府県」をあらわしたものです。
- 問5 (1) イ：愛知県・陶磁器工業 ウ：千葉県・鉄鋼業 オ：広島県・造船業
(2) B：鉄鋼業・輸送用機械器具の出荷額が多いことから愛知県
C：海面漁業漁獲量の統計がないことから内陸県の長野県 残ったAが静岡県
- 問6 ア：備前焼－岡山県 イ：有田焼－佐賀県 エ：益子焼－栃木県
- 問7 (1) ア：石炭 ウ：液化天然ガス エ：自動車
- 問8 本州の日本海側に位置している都道府県は、北から順に青森県・秋田県・山形県・新潟県・富山県・石川県・福井県・京都府・兵庫県・鳥取県・島根県・山口県の12府県です。
- 問9 「旭川」「帯広」などから、(㉠) が北海道であることがわかります。
Y：北海道には空港（新千歳空港など）・新幹線（北海道新幹線・新函館北斗駅など）のいずれも存在します。

2

- ①：福岡県 ②：大分県 ③：宮崎県 ④：鹿児島県 ⑤：沖縄県
- 問2 (1) イ：山形県 ウ：青森県 エ：秋田県
- 問3 (1) ア：長崎県 イ：鹿児島県 エ：福岡県
(2) ア：自動車 イ：鉄道
- 問4 ア：熊本県 イ：大分県 ウ：鹿児島県 エ：福岡県
- 問5 (1) ア：鹿児島県西部 イ：福岡県南部 ウ：島根県東部 エ：愛媛県
(2) 肉用若鶏は鹿児島県・宮崎県の他に、岩手県などの東北地方の都道府県が上位になります。
- 問6 (2) 日本列島の長さが北東から南西に約3300kmであることから考えましょう。地図帳には東京を中心とした同心円が描かれているので参考にしてください。
(3) イ：愛知県・岐阜県・三重県の輪中地帯の伝統的な家屋にみられます。
ウ：群馬県などの空っ風が吹く地域の伝統的な家屋にみられます。
エ：北海道などの冬の寒さが厳しい地域の家屋にみられます。

3

- 問1 ア：岐阜県 イ：長野県 ウ：埼玉県 エ：山梨県 オ：群馬県
- 問2 ア： イ： ウ： エ：
- 問3 イ：「きよさと駅」からみて「獅子岩」は北東の方角にあります。
ウ：「野辺山スキー場」の周辺には針葉樹林（ ）が多くみられます。
エ：地図の北西部から駅にかけては道路はみられますが、河川は流れていません。
- 問4 実際の距離は、地図上の長さ×縮尺の分母で求めることができます。
 $6\text{ cm} \times 25000 = 150000\text{ cm} = 1500\text{ m}$ となります。