

1

問1 国土地理院 問2 (1) ア (2) お ね 問3 エ

問4 2 km 問5 北西 問6 ⑥ やまなし 山梨 県 ⑦ 長野 県

問7 イ 問8 エ カ 問9 イ

問8 : 順不同・完答

問6 : 完答

2

問1 A つくし 筑紫 平野 B おおすみ 大隅 半島 C やく 屋久 島

問2 エ 問3 さが 佐賀 県 問4 イ 問5 イ

問6 ウ → イ → カ 問7 ⑤

問6 : 完答

3

問1 せいじん の日 問2 2 月 11 日 問3 ウ → ア → イ

問2 : 完答 問3 : 完答









問4 ぎふ 岐阜 県 問5 パラリンピック 問6 ⑥ ⑧

問6 : 順不同・完答

配点 : 各4点 × 25問 = 100点

下線部 : ひらがな・カタカナ・漢字指定

1

- 問2 (1) ア：等高線の幅が広ければ傾きがゆるやかで、等高線の幅がせまければ傾きが急になります。
(2) 等高線が頂上に向かってくぼんでいる地形を「谷」とよぶことも覚えておきましょう。
- 問3 エ：等高線の間かくが10mの場合は、縮尺が2万5千分の1の地図になります。
- 問4 実際の距離は「地図上の長さ×縮尺の分母の数」でもとめることができるので、 $4\text{ cm} \times 50000 = 200000\text{ cm} = 2000\text{ m} = 2\text{ km}$ となります。
- 問6 Aは「甲府駅」から山梨県、Bは「八ヶ岳」から長野県・山梨県とわかります。
- 問7 イ：ピーマンは夏野菜で、宮崎県や高知県などで促成栽培によりさかんに生産されています。
- 問8 ア： イ： ウ： エ： オ： カ：
- 問9 ア：地図の北西部には1600mの等高線が見られます。
ウ：針葉樹林 () だけでなく、広葉樹林 () も見られます。
エ：地図の南東部分に「矢出川」という川が流れています。

- 2 地図の県は次の通りです。 ①：福岡県 ②：佐賀県 ③：大分県 ④：長崎県 ⑤：熊本県
⑥：宮崎県 ⑦：鹿児島県

- 問2 エ：西九州新幹線は、「武雄温泉駅 (佐賀県)」と「長崎駅 (長崎県)」を結んでいます。
- 問4 ア：長崎県 ウ：福岡県 エ：宮崎県
- 問5 ア：愛媛県 ウ：熊本県・鹿児島県 エ：大分県
- 問6 河口の県は次の通りです。
ア：静岡県 イ：静岡県 ウ：山形県 エ：三重県 オ：徳島県 カ：熊本県

3

- 問3 ウ：5月3日 → ア：5月4日 → イ：5月5日
- 問4 海に面していない県は、群馬県・栃木県・埼玉県・山梨県・長野県・岐阜県・滋賀県・奈良県の8県で、最も大きい県が長野県で、次に大きい県は岐阜県となります。
- 問6 ハッピーマンデー制度が適用されている国民の祝日は次の4つです。
1月第2月曜日→成人の日 7月第3月曜日→海の日
9月第3月曜日→敬老の日 10月第2月曜日→スポーツの日